

PRUEBA: INTERVALOS Y ESCALAS

Curso: 3º Enseñanzas Elementales


Nombre: _____

Clasifica los siguientes intervalos e indica que clase de intervalo resultaría al realizar la inversión:




Realiza las siguientes escalas:

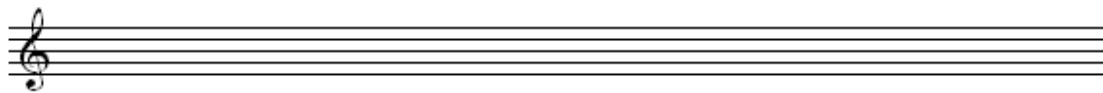
Mi M




La b M



Do m Armónica



Fa # m Melódica



Si b m Armónica

